

平成 28 年度 東京都立戸山高等学校

推薦に基づく選抜

小論文

注 意

- 1 問題は□1と□2で、4ページにわたって印刷してあります。
- 2 □1と□2の両方とも答えなさい。
- 3 検査時間は50分です。
- 4 声を出して読むではいけません。
- 5 答えはすべて解答用紙に明確に記入し、解答用紙だけを提出しなさい。
- 6 答えは問題の指示に従って書きなさい。
- 7 答えを直すときは、きれいに消してから、新しい答えを書きなさい。
- 8 受検番号を解答用紙の決められた欄に記入しなさい。
- 9 文頭は1マス空けないこと。
- 10 句読点および「」などは1字に数え1マスに書きなさい。
なお、数字は2つで1字として1マスに書きなさい。

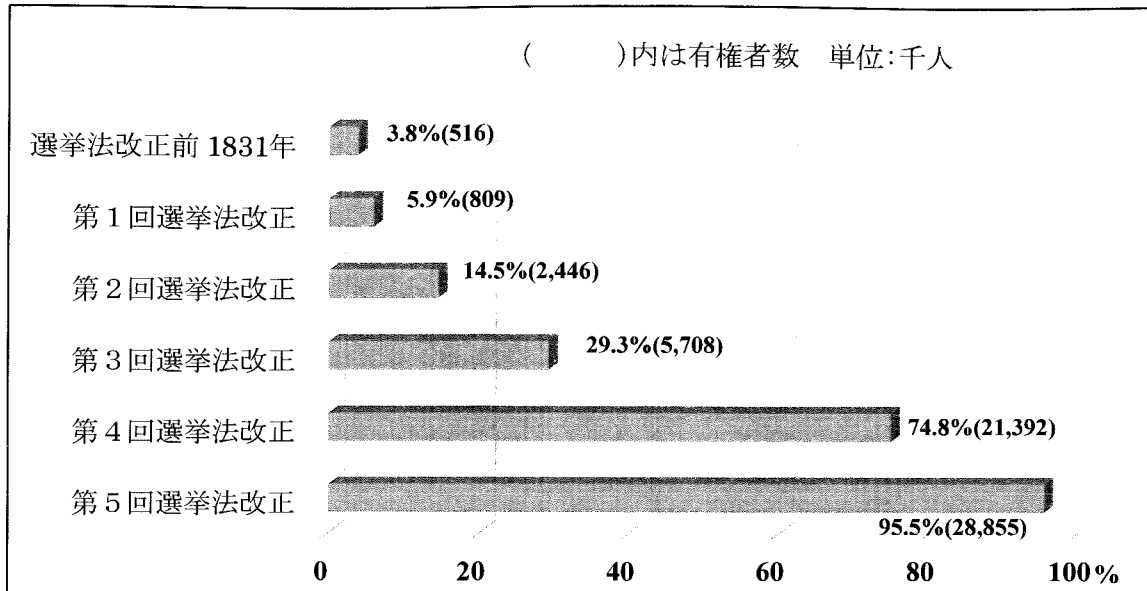
- 1 イギリスでは、19世紀から20世紀に、6回の選挙法改正を経て選挙権を拡大し、現在の普通選挙制に至っている。これに関して、資料1～資料3を参考にして、次の問に答えなさい。

問 イギリスにおける選挙権拡大の過程とその社会的な背景について、19世紀と20世紀に分けて、180字～220字でまとめなさい。

[資料1] 選挙法改正を中心とした18世紀～20世紀のイギリス略年表

年代	出来事
1711	議員の財産資格法 [有力な地主層に選挙権を限定]
1769	ワットが蒸気機関を改良
1789	マンチェスターに蒸気力による紡績工場設立
1802～03	綿製品がイギリスの輸出品の第1位になる
1830	リヴァプール・マンチェスター間で、蒸気機関車の営業運転開始
1832	第1回選挙法改正 [都市の工場経営者、資本家らに選挙権が拡大]
1837～50年代	チャーティスト運動 (中産階級や都市の労働者が、男性普通選挙権などを要求して政治運動を行う)
1867	第2回選挙法改正 [都市に住む工業労働者らに選挙権が拡大]
1877	インドを植民地として支配する
1884	第3回選挙法改正 [農業労働者、鉱山労働者らに選挙権が拡大]
1914～18	第一次世界大戦 (イギリスは連合国側として参戦)
1918	第4回選挙法改正 [21歳以上の男性に普通選挙権、一定の条件を満たした30歳以上の女性に選挙権が拡大]
1928	第5回選挙法改正 [21歳以上の男女に普通選挙権を定める]
1939～45	第二次世界大戦 (イギリスは連合国側として参戦)
1960年代	若者文化が盛んになる (学生運動で大学生が社会的・政治的主張を訴える、ロック音楽がブームとなるなどの現象が起きる)
1969	第6回選挙法改正 [18歳以上の男女に普通選挙権を定める]

[資料2] イギリスにおける 20 歳以上人口に対する有権者数の百分比
 (「ヨーロッパ歴史統計 上巻」より作成)



[資料3] 第一次世界大戦中の連合国のポスターとその説明

(ポスターは、「戦争の表象 東京大学情報学環所蔵 第一次世界大戦期プロパガンダ・ポスター コレクション」吉見俊哉 編 より転載)



Are YOU in this?



During the First World War, the *government made a lot of *posters. They wanted *British men to join the *army. But they also needed the help of women in the war effort. In 1916, there were three million men fighting away from home. Because of this, many women had to work on farms or in *military factories. They also became nurses or joined the *Auxiliary Services to help the army. Because women played an important part in winning the war, the *situation for women had to change.

[注] government 政府
 army 軍隊
 situation 立場

poster ポスター
 military factory 軍事工場

British イギリスの
 Auxiliary Services 補助援軍

2

次の観察記録は、戸山さんが林の中を歩いた時のものである。

これに関して、資料1、資料2を参考にして、下の問1、問2に答えなさい。

[観察記録]

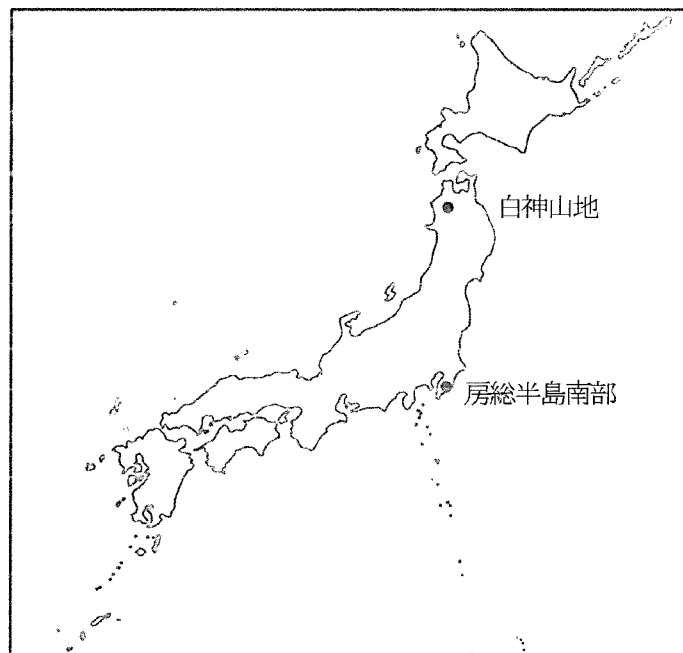
7月上旬に白神山地のブナの林の中を歩いていると、頭上にはブナの葉が広がり、その間から太陽光が漏れていた。一方、足元には**ブナの落ち葉**がたくさん積もっていて歩くとふかふかしており、表面の葉は茶色でほぼ原形をとどめていた。

同じ時期に房総半島南部のスダジイの林の中を歩いていると、頭上にはスダジイの葉が広がり、太陽光はほとんど漏れていなかった。一方、足元には**スダジイの落ち葉**がたくさん積もっていたが、歩くとブナの林に比べてやや硬い感じがした。表面の葉は茶色で原形をとどめていたが、表面の落ち葉を取り除くと緑色の葉も混ざっていてトビムシなどの土壌動物が多数動いている様子が見られた。



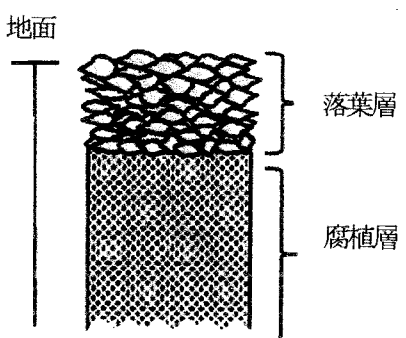
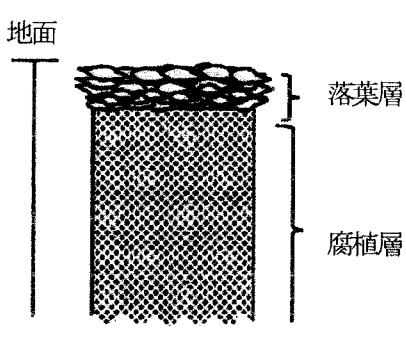
問1 ブナの落ち葉は、おもにいつ頃落葉したと考えられるか。理由がわかるように60～80字で説明しなさい。

問2 スダジイの落ち葉は、おもにいつ頃落葉したと考えられるか。理由がわかるように60～80字で説明しなさい。

[資料1] ブナとスダジイの観察地点



[資料2] ブナとスダジイの特徴

名称 特徴	ブナ	スダジイ
樹木の分類 特徴	<ul style="list-style-type: none"> ・ 新芽が出て1年以内の一斉に葉を落とす樹木で、広い葉をもつ。(落葉広葉樹) ・ 寒冷的な環境に適応している。 	<ul style="list-style-type: none"> ・ 常に緑の葉がついている樹木で、広い葉をもつ。ただし、新しい葉への更新は1年以上たってから行われる。(常緑広葉樹) ・ 比較的温暖な環境に適応している。
葉の特徴	 <ul style="list-style-type: none"> ・ 葉は比較的薄く、落葉の前後に水分が失われる。 	 <ul style="list-style-type: none"> ・ 葉は厚く、光沢があり、落葉後1ヶ月は水分を保っている。
生育地	<ul style="list-style-type: none"> ・ 関東地方では丹沢や秩父の900～1500mの標高に多く自生している。東北地方では平野部にも自生しており、特に白神山地のブナの原生林は有名である。 	<ul style="list-style-type: none"> ・ 関東以西の標高の低いところに多く自生している。東京では神社や寺に多くみられるが、公園の樹木や庭木としても植えられている。
土壌断面図	 <p style="text-align: right;">注)</p>	 <p style="text-align: right;">注)</p>

注) 落葉層：分解途中の落ち葉が堆積している層
腐植層：腐植（土の中の有機物）に富む層

解答用紙

1

	5	10	15	20	
					180
					220

受 検 番 号	得 点

